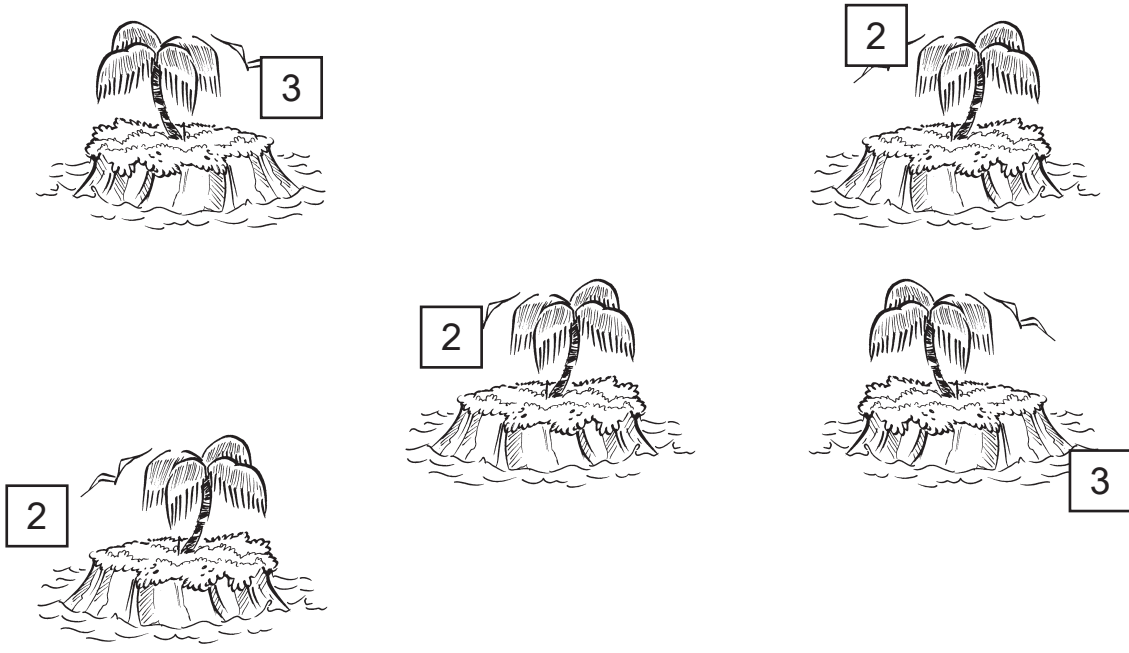


Lakatlan sziget


1. A képen látható szigeteket hidak kötik össze. A számok a szigetből kiinduló hidak számát jelzik. A hidak csak vízszintesen és függőlegesen egyenes vonalban haladhatnak, nem keresztezhetik egymást és másik szigetet. Két sziget között legfeljebb két híd állhat. Rajzold be a hidakat úgy, hogy bármely szigetről el tudj jutni bármely másikra!



2. Töltsd ki az üres négyzeteket számjegyekkel (1-től 9-ig) úgy, hogy minden számjegy csak egyszer szerepeljen minden sorban, oszlopban és a 3x3-as négyzetekben!

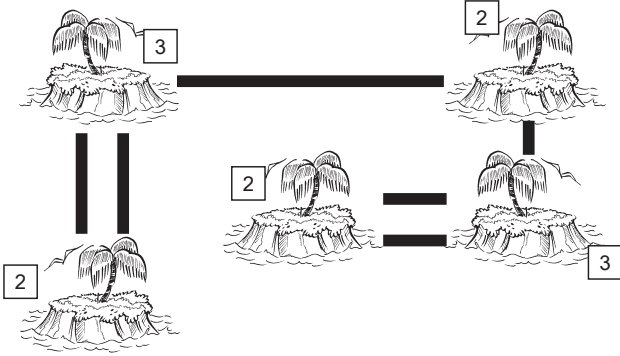
	6	4				8	5	9
				8				
3		8	4		1	2		
5			8			1	3	
			1	3	5			
	1	3				9		4
		5	6		2	4		3
				1				
9	3	1				6	2	

3. A halmazban megtalálható összes jel háromszor szerepel a képen, egy kivételével. Melyik az?



Javítókulcs

1.



2.

1	6	4	7	2	3	8	5	9
7	5	2	9	8	6	3	4	1
3	9	8	4	5	1	2	7	6
5	2	9	8	6	4	1	3	7
4	8	7	1	3	5	9	6	2
6	1	3	2	7	9	5	8	4
8	7	5	6	9	2	4	1	3
2	4	6	3	1	8	7	9	5
9	3	1	5	4	7	6	2	8

3.

f