

## Az ember

1. Vezesd a testrészek nevét a megfelelő helyre!

mellkas

láb

váll


kéz

kar

has

fej

nyak



2. Egészítsd ki a rajzot! Írd le a fejen lévő érzékszervek nevét!

---

---

---

---

---

---

---


---

---

---

---

---



3. Igaz vagy hamis?  
Írd az állítások mellé!

- A A szemünk páros szerv.
- B A könyökünk a lábunkon van.
- C Az orrunkkal érzékeljük a színeket.
- D A boka a lábszár és a lábfej között van.

---

---

---

---

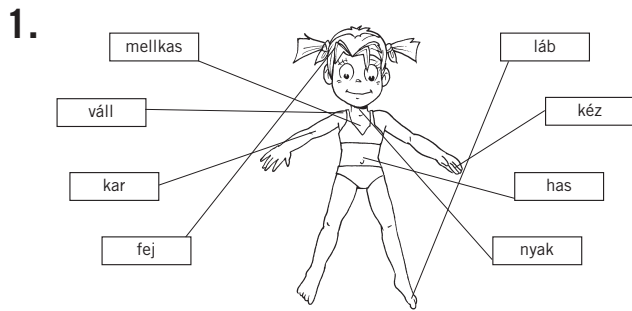
---

---

---

---

## Javítókulcs



2. Berajzolva az orr és a száj. A fejen lévő érzékszervek: szem, fül, orr, nyelv.

3. A – igaz, B – hamis, C – hamis, D – igaz