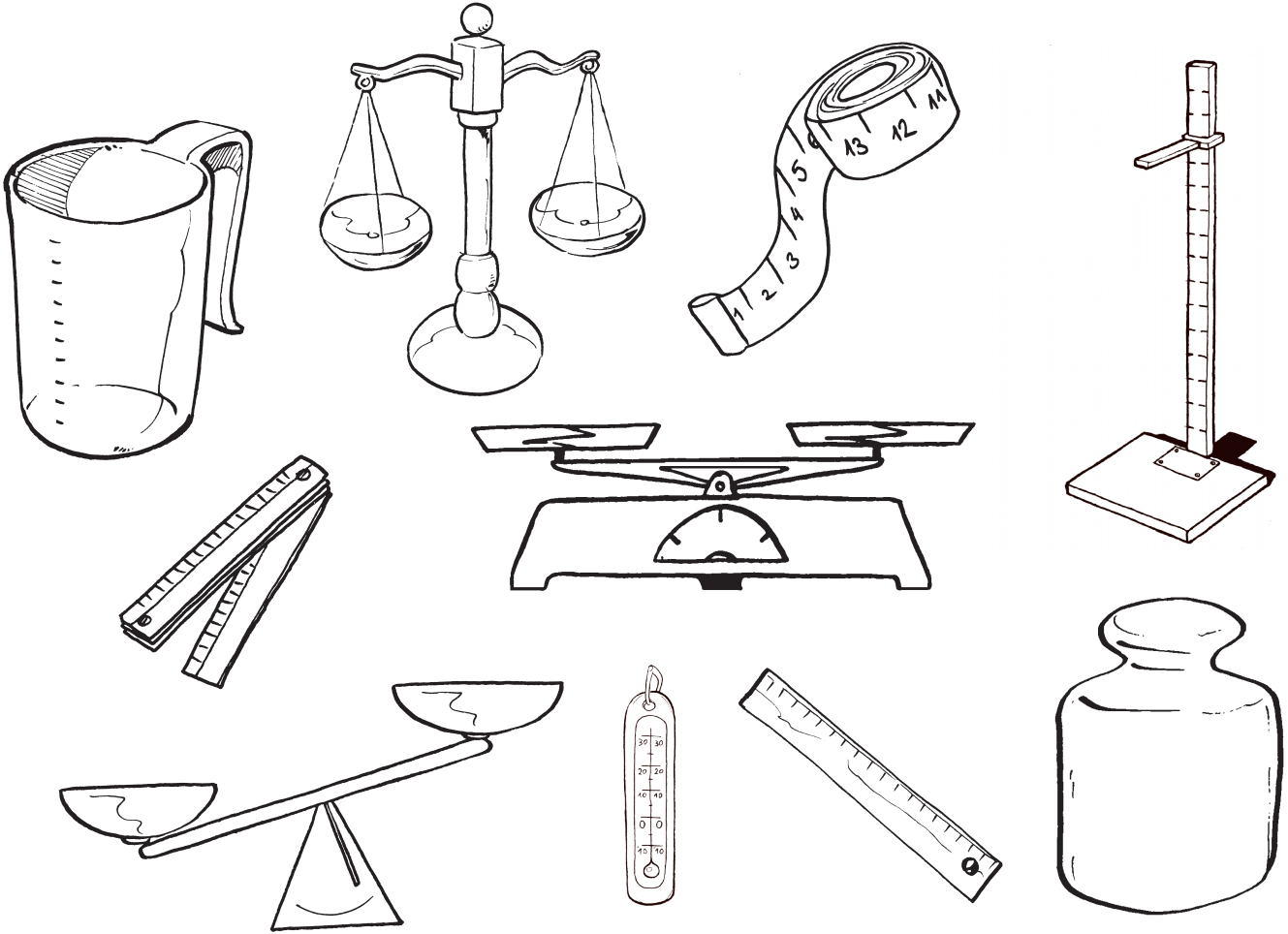


Mérés

1. Karikázd be kékkel azokat a mérőeszközöket, amelyekkel hosszúságot mérhetünk!



2. Mely mértékegységekkel mérünk hosszúságot? Színezd ki kékkel!

méter = m


kilogramm = kg

liter = l

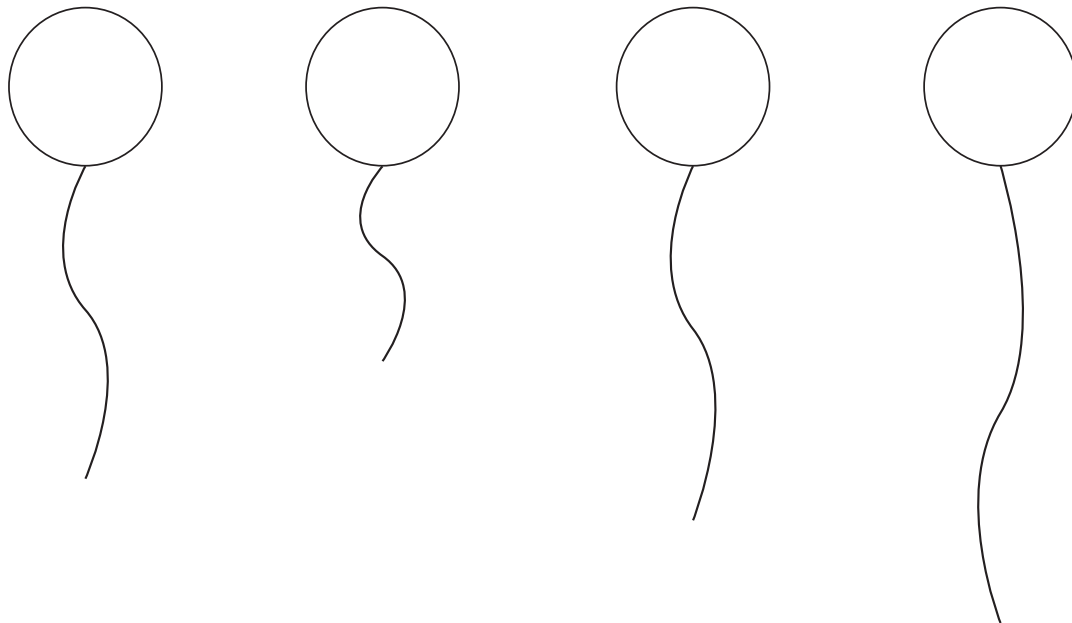
deciliter = dl

deciméter = dm

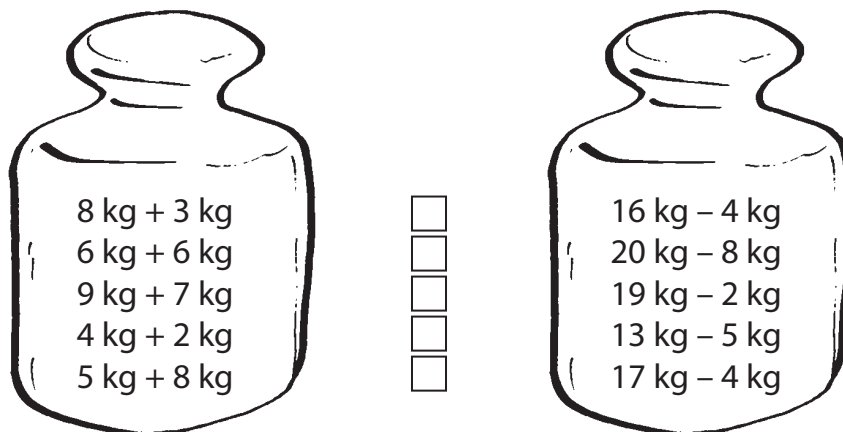
3. Számozással állítsd tornasorba a mesefigurákat! Kezdd a legkisebbel!




4. Színezd kékre azt a lufit, amelyiknek a leghosszabb a zsinórja!
 Pirosra azt, amelyiknek a legrövidebb!



5. Melyik súly a nehezebb? Tedd ki közéjük a relációs jelet!



6. Kösd a poharakat a megfelelő kancsóhoz!



Javítókulcs

1. mérőszalag, magasságmérő, colstok, vonalzó
2. méter = m, deciméter = dm
3. 3. Csiribá, 2. Tappancs, 4. Rozsdás, 1. Zümi
4. kékre színezve: utolsó lufi;
pirosra színezve: második lufi
5.

$8 \text{ kg} + 3 \text{ kg}$	<input type="checkbox"/>	$16 \text{ kg} - 4 \text{ kg}$
$6 \text{ kg} + 6 \text{ kg}$	<input type="checkbox"/>	$20 \text{ kg} - 8 \text{ kg}$
$9 \text{ kg} + 7 \text{ kg}$	<input type="checkbox"/>	$19 \text{ kg} - 2 \text{ kg}$
$4 \text{ kg} + 2 \text{ kg}$	<input type="checkbox"/>	$13 \text{ kg} - 5 \text{ kg}$
$5 \text{ kg} + 8 \text{ kg}$	<input type="checkbox"/>	$17 \text{ kg} - 4 \text{ kg}$
6. $1 \text{ l} > 8 \text{ dl}$, 1 dl , 3 dl , 5 dl
 $1 \text{ l} < 13 \text{ dl}$, 2 l
kimaradt: 1 l