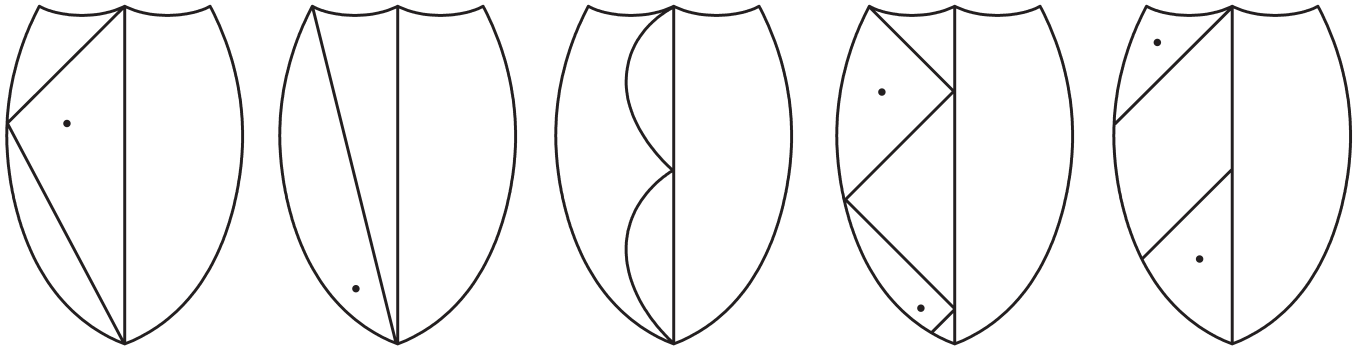


## Lovagok

1. Rajzold meg a lovagok pajzsának másik felét!



2. Színezd barnára azokat a köveket, amelyek igazzá teszik a nyitott mondatot!


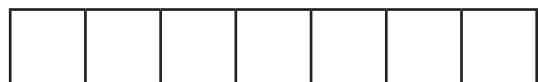
$\square > 12 + 3$             

$\square < 18 - 4$             

$9 + 3 < \square < 20 - 3$             

3. Oldd meg a szöveges feladatot! Rajzolj! Számolj! Válaszolj!

Tappancs várának fegyverraktárában 6 kard és 8 buzogány van.  
Hány fegyver van a raktárban összesen?



## Javítókulcs

2.  $\square > 12 + 3 : 16, 17, 18$

$\square < 18 - 4 : 12, 13$

$9 + 3 < \square < 20 - 3 : 13, 14, 15, 16$

3.  $6 + 8 = \square$      $6 + 8 = 14$     14 fegyver van a raktárban.